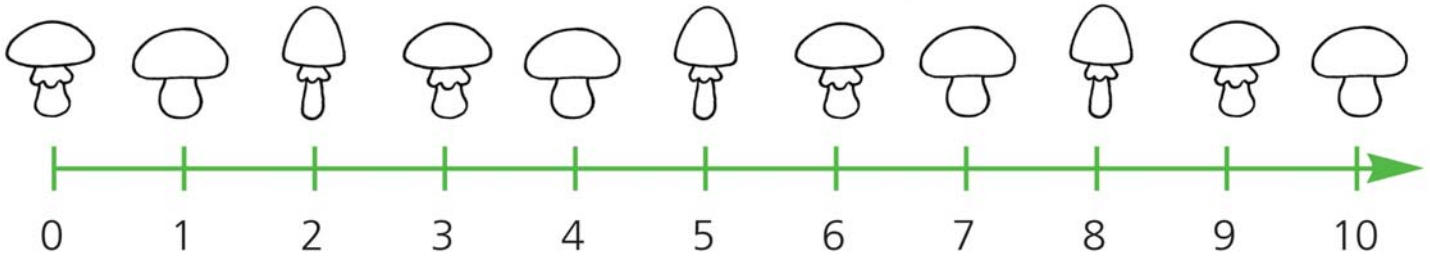


1 SULLA LINEA DEI NUMERI COLORA:

- DI ROSSO I FUNGHI 4, 7, 8 E 10
- DI ARANCIO I FUNGHI 1, 3 E 5
- DI GIALLO I FUNGHI 2, 6, 9 E 0.

**2** COMPLETA, COME NEGLI ESEMPI.

$$0 + 10 = 10$$

$$1 + 9 = 10$$

$$2 + \dots = \dots$$

$$3 + \dots = \dots$$

$$4 + \dots = \dots$$

$$5 + \dots = \dots$$

$$6 + \dots = \dots$$

$$7 + \dots = \dots$$

$$8 + \dots = \dots$$

$$9 + \dots = \dots$$

$$10 + \dots = \dots$$



$$0 + 9 = 9$$

$$5 + 4 = \dots$$

$$1 + \dots = \dots$$

$$6 + 3 = \dots$$

$$2 + \dots = \dots$$

$$7 + \dots = \dots$$

$$3 + \dots = \dots$$

$$8 + \dots = \dots$$

$$4 + \dots = \dots$$

$$9 + \dots = \dots$$

$$0 + 7 = 7$$

$$4 + \dots = \dots$$

$$1 + \dots = \dots$$

$$5 + \dots = \dots$$

$$2 + \dots = \dots$$

$$6 + \dots = \dots$$

$$3 + \dots = \dots$$

$$7 + \dots = \dots$$



1 COMPLETA CON I NUMERI MANCANTI, COME NELL'ESEMPIO.

5	6	7				9	2						
					7	2							1
		7					8				5		
	2					4			0				

2 SCRIVI IL NUMERO PRECEDENTE E QUELLO SUCCESSIVO.

....	4	7	6	5
....	1	2	4	8
....	6	5	1	2
....	3	8	3	7


3 CONFRONTA LE COPPIE DI NUMERI E COMPLETA CON $>$, $<$, $=$.

8	<input type="text"/>	6	7	<input type="text"/>	7	9	<input type="text"/>	7
2	<input type="text"/>	9	1	<input type="text"/>	4	3	<input type="text"/>	5



4 COMPLETA CON UN NUMERO ADATTO.

3	$>$	<input type="text"/>	<input type="text"/>	$>$	4	9	$>$	<input type="text"/>
5	$<$	<input type="text"/>	<input type="text"/>	$<$	4	<input type="text"/>	$<$	3
8	$=$	<input type="text"/>	<input type="text"/>	$=$	9	<input type="text"/>	$>$	<input type="text"/>
2	$=$	<input type="text"/>	4	$>$	<input type="text"/>	6	$<$	<input type="text"/>

1 QUALE POSTO OCCUPA IL RICCIO COLORATO?
SCRIVILO NELLA CASELLA, COME NELL'ESEMPIO.



OTTAVO




2 COLORA LA CASTAGNA CHE OCCUPA IL POSTO INDICATO
NELLA CASELLA.

SECONDA



PRIMA




QUINTA




SETTIMA



1 COLORA GLI ELEMENTI CHE APPARTENGONO ALL'INSIEME INDICATO.



2 SEGNA CON UNA X GLI ELEMENTI CHE SI POSSONO RIPRODURRE.



3 RIORDINA, NUMERANDO DA 1 A 5, LE AZIONI CHE POSSONO COMPIERE GLI **ESSERI VIVENTI**.

