


1

Conta gli elementi, raggruppalvi per 10, rappresentali sull'abaco e registra in tabella. Poi scrivi il numero in parola.

1 Classifica questi alimenti scrivendo il loro nome al posto giusto.




.....  
 .....  
 .....

**Alimenti salati**

.....  
 .....  
 .....

**Alimenti dolci**

2 In ogni insieme scopri l'intruso e segnalo con una X.



**Animali**




**Bambini con cappello**



**Animali a 4 zampe**

- 1 Leggi le informazioni della tabella e completa il grafico relativo all'indagine svolta in una classe sui passatempi preferiti dagli alunni. Poi rispondi alle domande.

	Sport	Lettura	TV	Videogiochi	Bicicletta	Parco giochi
Numero bambini	5	4	3	8	3	2



- Qual è il passatempo preferito nella classe? .....
- Qual è il passatempo meno preferito? .....
- Ci sono passatempi che hanno ricevuto lo stesso numero di preferenze? ..... Quali? .....
- Quanti sono gli alunni che hanno partecipato all'indagine? .....