


1 Esegui le **sottrazioni** in colonna con la **prova**.

SENZA PRESTITO	CON UN PRESTITO	CON PIU PRESTITI
$56\ 149 - 1\ 038 = \dots\dots\dots$	$38\ 165 - 16\ 084 = \dots\dots\dots$	$15\ 364 - 9\ 571 = \dots\dots\dots$
$27\ 764 - 14\ 563 = \dots\dots\dots$	$99\ 602 - 33\ 801 = \dots\dots\dots$	$63\ 902 - 54\ 968 = \dots\dots\dots$



1 Completa la tabella.

NUMERO DATO	- 10	- 100	- 1 000	- 10 000
25 000	.....	.....	.....	.....
48 750	.....	.....	.....	.....
93 100	.....	.....	.....	.....

2 Applica la proprietà **invariantiva**, come nell'esempio, poi esegui le sottrazioni.

$$94 - 43 = (94 - 3) - (43 - 3) = 91 - 40 = \dots\dots\dots$$

$$156 - 86 = (156 + 4) - (86 + 4) = \dots\dots\dots = \dots\dots\dots$$

$$305 - 125 = \dots\dots\dots$$

$$796 - 433 = \dots\dots\dots$$

$$852 - 142 = \dots\dots\dots$$

$$208 - 24 = \dots\dots\dots$$

$$697 - 202 = \dots\dots\dots$$

3 Osserva le seguenti sottrazioni e cerchia quelle in cui la proprietà **invariantiva** è stata applicata in modo corretto.

$$304 - 95 = (304 - 4) - (95 - 6)$$

$$644 - 126 = (644 + 6) - (126 - 6)$$

$$525 - 155 = (525 - 5) - (155 - 5)$$

$$908 - 359 = (908 - 8) - (359 - 8)$$




**1** Leggi, risolvi con l'operazione corretta e rispondi.

- Simone ha 12 anni, suo fratello Carlo ha 5 anni in più e sua sorella Laura ha 2 anni in più di Carlo.  
Qual è l'età di Carlo e quella di Laura?

**Risolvi:**

**Rispondi:**



- In un supermercato ci sono 120 vasetti di yogurt bianco, 35 vasetti in più di yogurt alla fragola e i vasetti di yogurt alla ciliegia sono 10 in più di quelli alla fragola.  
Quanti vasetti di yogurt ci sono nei frigoriferi del supermercato?



**Risolvi:**

**Rispondi:**


- Francesco ha 18 anni, Luca ha 3 anni in meno di Francesco e Carlo ha 6 anni in meno di Luca.  
Qual è l'età di Luca e di Carlo?

**Risolvi:**

**Rispondi:**



- Eleonora ha 125 perline un po' rosse e un po' blu. Regala le 38 perline blu alla sua amica Irene.  
Quante perline rosse ha Eleonora?



**Risolvi:**

**Rispondi:**