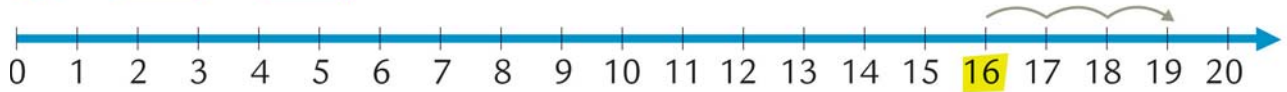


**1** ESEGUI LE ADDIZIONI SULLA LINEA DEI NUMERI.

$$16 + \square = \square$$



$$9 + \square = \square$$



**2** COMPLETA LE TABELLE DELL'ADDIZIONE.

$\rightarrow +$	4	7
12		
9		

$\rightarrow +$	6	11
7		
8		

$\rightarrow +$	10	9
6		
4		

**3** CALCOLA.

$$3 + 4 = \square$$

$$5 + 7 + 1 = \square$$

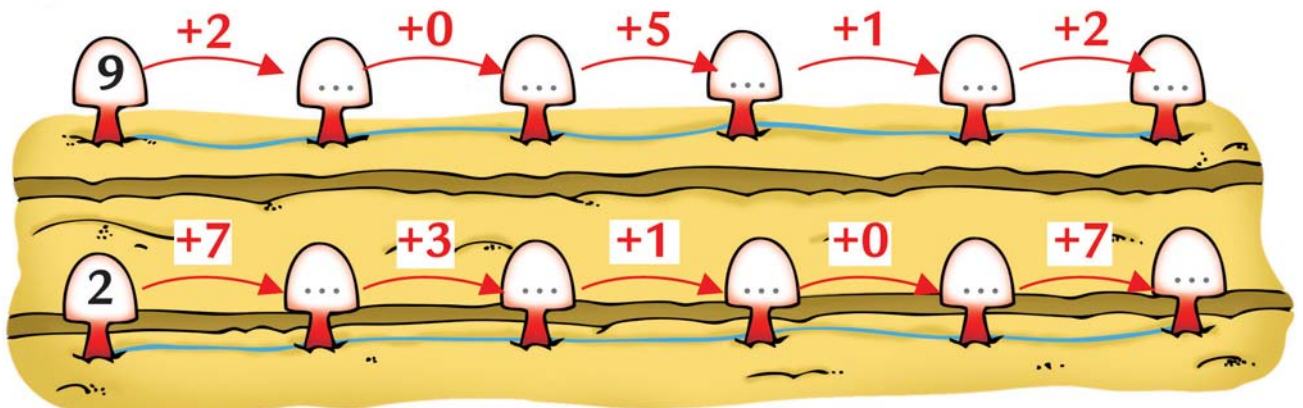
$$1 + 3 + 4 = \square$$

$$5 + 2 = \square$$

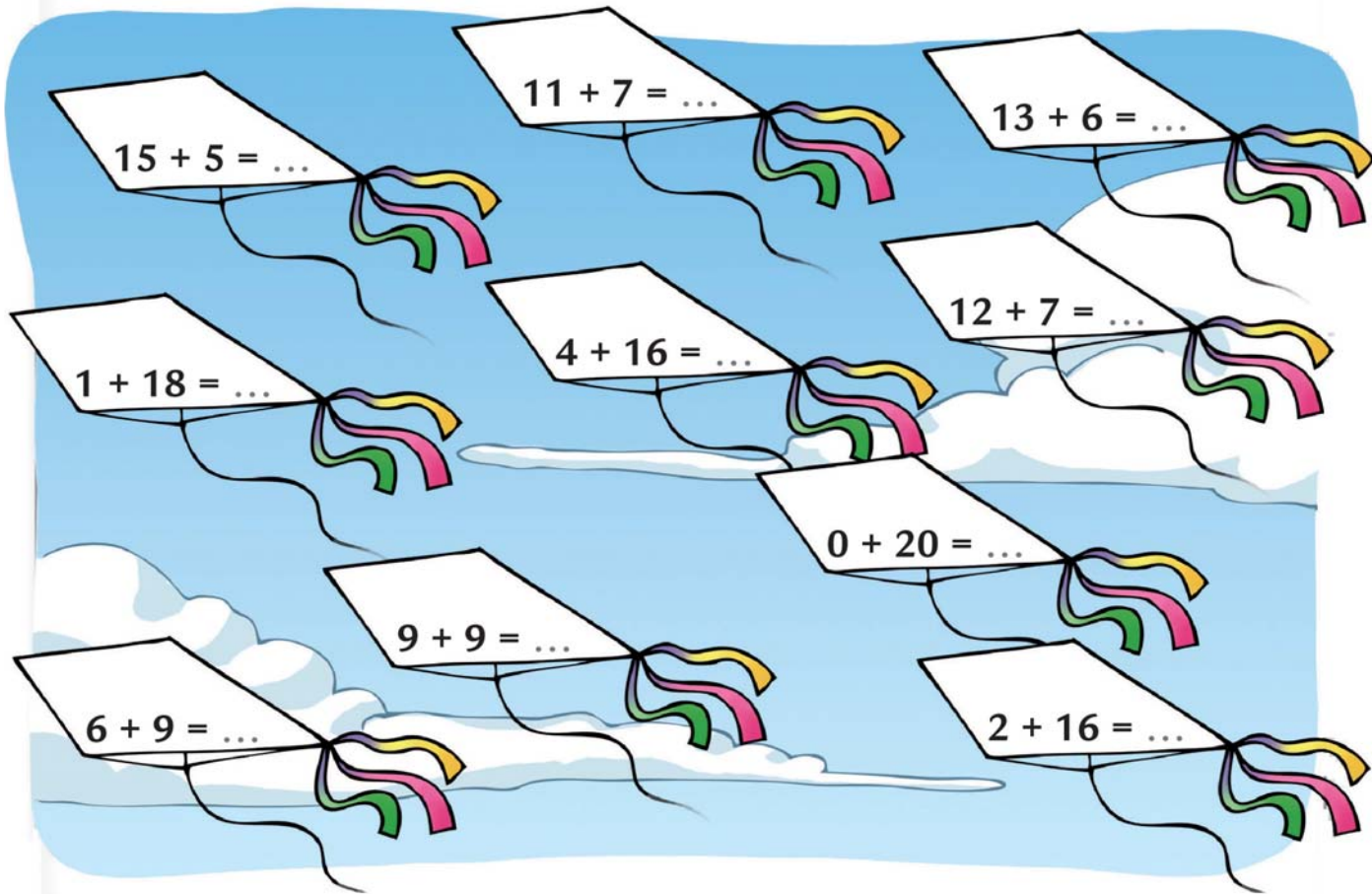
$$8 + 2 + 4 = \square$$

$$4 + 3 + 2 = \square$$

**4** COMPLETA I PERCORSI SEGUENDO LE INDICAZIONI.



**1** ESEGUI LE ADDIZIONI IN RIGA. POI COLORA GLI AQUILONI CHE HANNO COME RISULTATO 20.



**2** COMPLETA IN MODO ADEGUATO, COME NELL'ESEMPIO.

$5 + 4 > 8$

$6 + 6 > \dots$

$0 + 8 < \dots$

$9 + 5 < \dots$

$11 + 7 = \dots$

$14 + 6 > \dots$

**1** OSSERVA. LEGGI E COMPLETA.







- LE PIZZE DI ELEONORA SONO .
- LE PIZZE DI ANDREA SONO .
- LE PIZZE SONO  IN TUTTO.
- **USA I NUMERI E I SEGNI:**  $5 + \square = \square$



- I PALLONCINI OVALI SONO .
- I PALLONCINI A CUORE SONO .
- I PALLONCINI SONO  IN TUTTO.
- **USA I NUMERI E I SEGNI:**  $6 \square 4 = \square$

**1** METTI UNA X NELLE CASELLE GIUSTE, POI COMPLETA LA FRASE.

	NASCE	CRESCE	SI NUTRE	RESPIRA	SI RIPRODUCE
					
					
					
					
					

- TUTTI GLI **ESSERI VIVENTI** NASCONO, .....,  
SI NUTRONO, ....., SI .....