


LE SOTTRAZIONI

1 CANCELLA CON UNA X GLI OGGETTI CHE NON SERVONO A UN GRUPPO DI BAMBINI PER ANDARE IN GITA. POI COMPLETA LE SOTTRAZIONI.




$$10 - 4 = \square$$



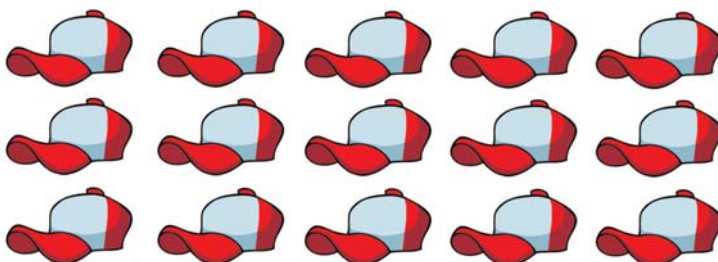
$$14 - 8 = \square$$



$$12 - 6 = \square$$



$$9 - 3 = \square$$



$$15 - 9 = \square$$

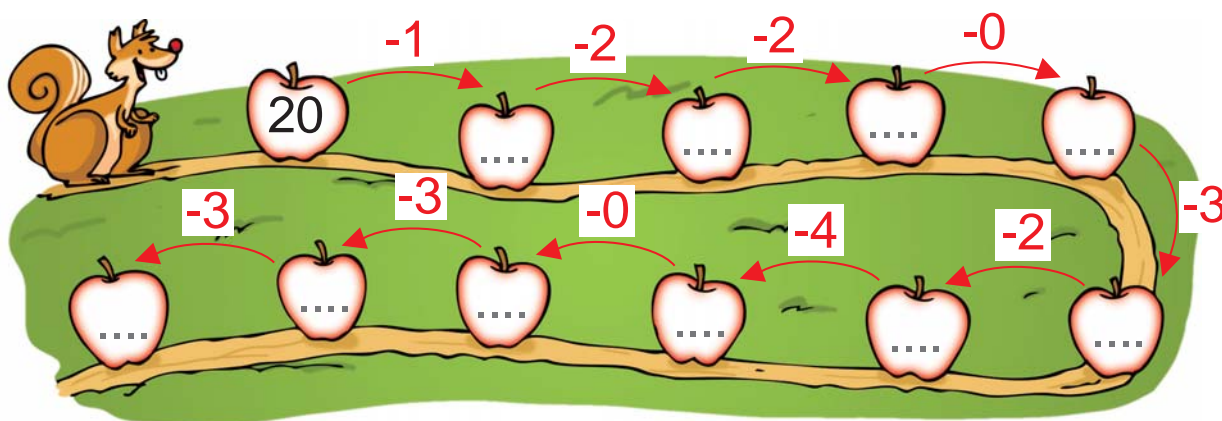
ANCORA SOTTRAZIONI

1 ESEGUI LA SOTTRAZIONE SULLA LINEA DEI NUMERI.

$$19 - 2 = \square$$



2 COMPLETA IL PERCORSO.



3 COMPLETA LE TABELLE DELLA SOTTRAZIONE.

↻	5	4	3
8			
7			
9			

↻	0	1	3
4			
3			
10			

↻	8	6	7
18			
16			
17			

4 ESEGUI LE SOTTRAZIONI.
POI COMPLETA CON UN NUMERO ADATTO, COME NELL'ESEMPIO.

10 - 2 > 5	$7 - 3 < \square$	$12 - 5 < \square$
$11 - 3 = \square$	$15 - 4 < \square$	$14 - 6 > \square$
$20 - 8 < \square$	$17 - 9 < \square$	$13 - 5 = \square$

PROBLEMA CON LA SOTTRAZIONE

1 OSSERVA, LEGGI E COMPLETA.



I CIOCCOLATINI DI ANDREA SONO .

I CIOCCOLATINI CHE MANGIA ELEONORA SONO .

I CIOCCOLATINI RIMASTI SONO .

• **USA I NUMERI E I SEGNI**

$$15 - \square = \square$$

• **USA LA LINEA DEI NUMERI**

$$15 - \square = \square$$



• **RISPOSTA**

NELLA SCATOLA RESTANO CIOCCOLATINI.

IL GUSTO


1 OSSERVA I PRODOTTI CHE SARA HA COMPRATO E SCRIVI NEI CARTELLINI LA PAROLA GIUSTA.

SALATO

DOLCE

AMARO

ASPRO



2 DISEGNA ALTRI ALIMENTI CHE CONOSCI, SEGUENDO L'INDICAZIONE DEI CARTELLINI.

DOLCE

SALATO

ASPRO

AMARO