

Le leve

1 Scrivi il nome di alcune "macchine semplici" che conosci.

Piano inclinato;

2 Collega con una freccia ogni termine alla sua definizione.

Leva

È il punto di appoggio di una leva.

Potenza

È il peso che si deve sollevare.

Resistenza

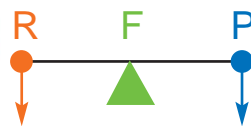
È la forza che viene applicata dall'uomo.

Fulcro

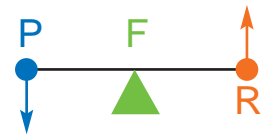
È una macchina semplice.



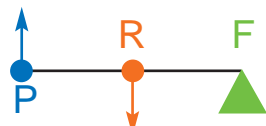
3 Osserva le immagini e individua il **fulcro (F)**, la **potenza (P)** e la **resistenza (R)**.



Leva di primo genere



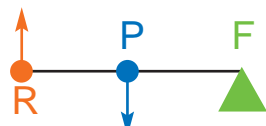
Leva di..... genere



Leva di secondo genere



Leva di..... genere



Leva di terzo genere



Leva di..... genere