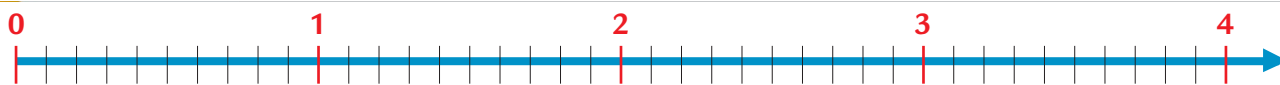


Confronta i numeri decimali

1 Colloca sulla linea dei numeri i **numeri decimali**.



0,1 0,3 1,2 0,9 1,7 2 2,4 3 2,8 3,5 3,9

2 Confronta le seguenti coppie di numeri decimali utilizzando i segni $>$, $<$, $=$.

7,1 7,12

8,5 8,3

19,4 19,41

0,35 0,4

5,95 5,9

3,27 4,27

6,30 6,3

12,83 12,83

16,03 16,07

21,24 22,24

1,09 1,19

30,4 30,40


15,25 15,252

39,7 3,97

2,05 2,5


10,311 10,3

3 Ordina in senso **crescente** i seguenti numeri decimali.



.....

4 Ordina in senso **decrescente** i seguenti numeri decimali.



.....

Le operazioni con i numeri decimali

1 Completa le catene di numeri seguendo il comando dato dalla freccia.

2 Esegui le moltiplicazioni per 10, 100, 1 000.

$$7,81 \times \dots = 78,1$$

$$0,7 \times \dots = 700$$

$$\dots \times 1\,000 = 4$$

$$\dots \times 100 = 28$$

$$6,51 \times \dots = 651$$

$$1,418 \times \dots = 141,8$$

3 Esegui in colonna le operazioni con i numeri decimali.

$$254,013 + 1\,927,4 = \dots$$

$$732,47 + 12,6 + 0,3 = \dots$$

$$16,8 \times 0,42 = \dots$$

$$0,92 \times 326 = \dots$$

$$1\,295,03 - 589,16 = \dots$$

$$204,137 - 27,048 = \dots$$

