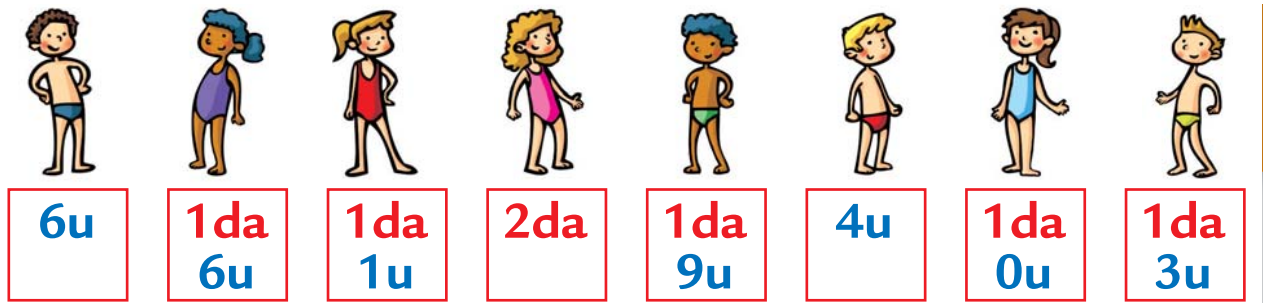



DECINE E UNITÀ


1

COLLEGA OGNI BAMBINO ALLA SUA TAVOLA DA SURF.




2

SCRIVI I NUMERI CORRISPONDENTI SULLE VELE.

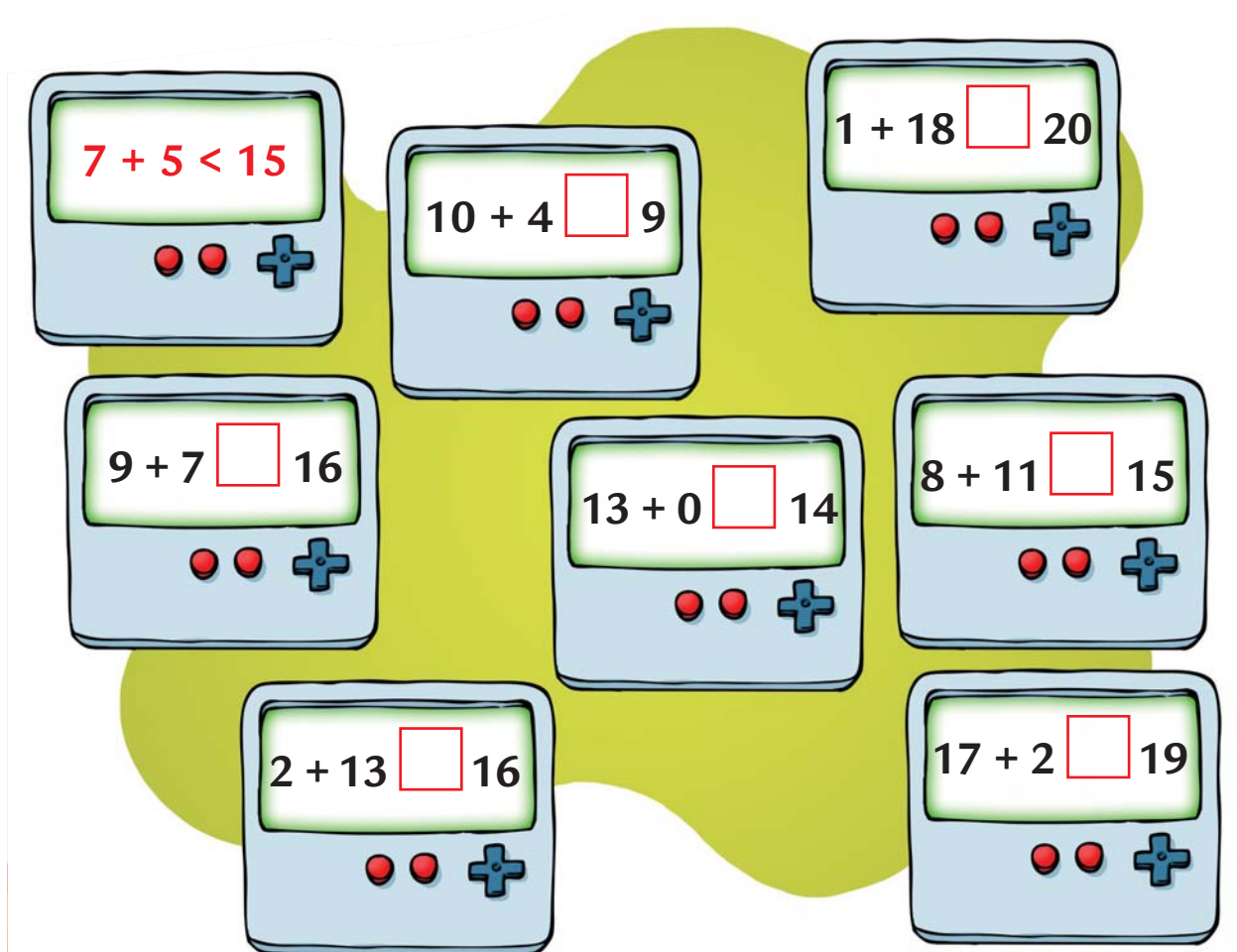


ADDIZIONI E CONFRONTI

1 COMPLETA CON UN NUMERO ADEGUATO DOPO I SEGNI $>$, $<$, $=$,
COME NELL'ESEMPIO.



2 INSERISCI IL SEGNO MANCANTE $>$, $<$, $=$ COME NELL'ESEMPIO.



SOTTRAZIONI E CONFRONTI

1 ESEGUI LE **SOTTRAZIONI** CHE VEDI NELLE MACCHINE.

$$\begin{array}{r} 7 \\ -5 \\ \hline \square \end{array}$$

$$\begin{array}{r} 9 \\ -2 \\ \hline \square \end{array}$$

$$\begin{array}{r} 5 \\ -5 \\ \hline \square \end{array}$$

$$\begin{array}{r} 10 \\ -4 \\ \hline \square \end{array}$$

$$\begin{array}{r} 10 \\ -7 \\ \hline \square \end{array}$$

$$\begin{array}{r} 15 \\ -4 \\ \hline \square \end{array}$$

$$\begin{array}{r} 17 \\ -5 \\ \hline \square \end{array}$$

$$\begin{array}{r} 20 \\ -6 \\ \hline \square \end{array}$$

2 ESEGUI LE SOTTRAZIONI SEGUENDO IL COMANDO DELLA FRECCIA.

$$\begin{array}{r} -3 \\ \curvearrowright \\ 12 \mid \square \\ 20 \mid \square \\ 9 \mid \square \end{array}$$

$$\begin{array}{r} -5 \\ \curvearrowright \\ 15 \mid \square \\ 8 \mid \square \\ 12 \mid \square \end{array}$$

$$\begin{array}{r} -10 \\ \curvearrowright \\ 10 \mid \square \\ 16 \mid \square \\ 19 \mid \square \end{array}$$

$$\begin{array}{r} -6 \\ \curvearrowright \\ 6 \mid \square \\ 18 \mid \square \\ 16 \mid \square \end{array}$$

3 ESEGUI LE SOTTRAZIONI E COMPLETA INSERENDO UN NUMERO ADATTO, COME NELL'ESEMPIO.

$$10 - 2 > 5$$

$$7 - 3 < \square$$

$$12 - 5 < \square$$

$$11 - 3 = \square$$

$$15 - 4 < \square$$

$$14 - 6 > \square$$


$$20 - 8 < \square$$

$$17 - 9 < \square$$

$$13 - 5 = \square$$

IL VISO E LE MANI

1 SCRIVI I NOMI DELLE PARTI DEL **VISO** AL POSTO GIUSTO.



2 COLLEGA CON UNA LINEA OGNI DITO DELLA **MANO** AL NOME GIUSTO.



MIGNOLO

INDICE

ANULARE

MEDIO

POLLICE