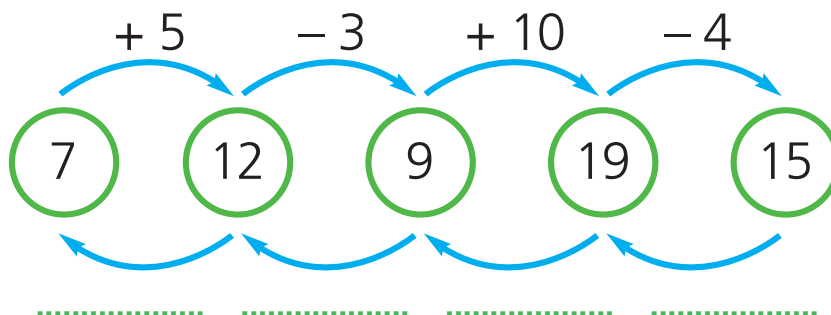


## Operazioni inverse

**1** Questa è una catena di operazioni. Completa il percorso al contrario.



**2** Esegui le sottrazioni e verifica se sono esatte, come nell'esempio.

### Sottrazione Prova

$$\begin{array}{r} 27 - \\ 14 = \\ \hline 13 \end{array} \quad \begin{array}{r} 13 + \\ 14 = \\ \hline 27 \end{array}$$

### Sottrazione Prova

$$\begin{array}{r} 25 - \\ 13 = \\ \hline ..... \end{array} \quad \begin{array}{r} ..... + \\ ..... = \\ \hline ..... \end{array}$$

### Sottrazione Prova

$$\begin{array}{r} 37 - \\ 23 = \\ \hline ..... \end{array} \quad \begin{array}{r} ..... + \\ ..... = \\ \hline ..... \end{array}$$

**3** Esegui sul tuo quaderno con la prova. Poi trascrivi il risultato.

Addizioni	Sottrazioni
<b>25 + 14 = 39</b>	<b>34 - 12 = 22</b>
10 + 33 = .....	43 - 11 = .....
17 + 21 = .....	36 - 14 = .....
18 + 31 = .....	28 - 16 = .....
32 + 15 = .....	47 - 32 = .....
40 + 19 = .....	49 - 25 = .....

## Il doppio e la metà




**1** Leggi, completa e rispondi.

- Emanuela possiede 8 videogiochi. Il suo amico Mario ne ha il doppio. Quanti videogiochi ha Mario?

Operazione   ×  =

Risposta .....

**2** Completa la tabella con l'operazione.

Oggetti	Il doppio
	... × 2 = ...
	... × 2 = ...
	... × 2 = ...

**3** Leggi, completa e rispondi.




- Marco e Fabio hanno 12 figurine che vogliono dividersi in parti uguali. Quante figurine riceverà ogni bambino?



• **Operazione:**  $12 : 2 = \dots$

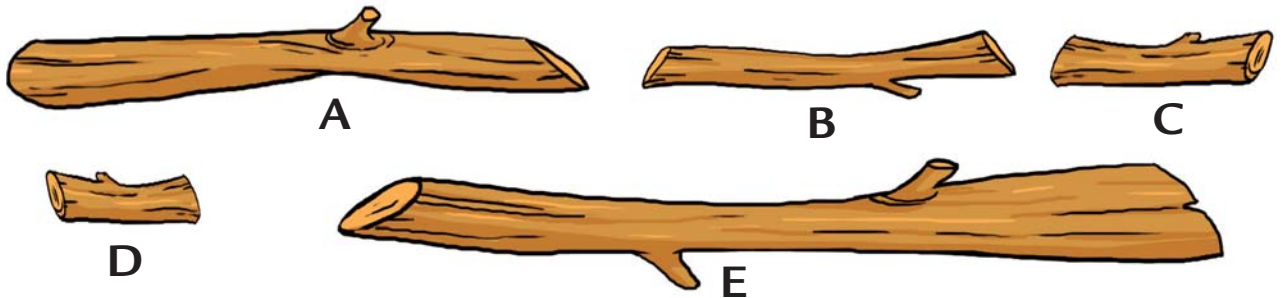
• **Risposta:** Ogni bambino riceverà ..... figurine.

**4** Disegna la metà degli oggetti rappresentati e completa le operazioni.

Oggetti	La metà	Operazione
		$2 : 2 \rightarrow \dots$
		$4 : \dots \rightarrow \dots$
		$8 : \dots \rightarrow \dots$

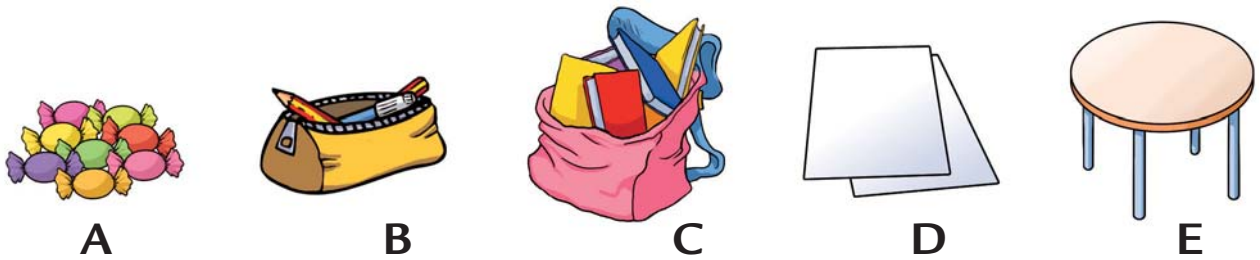
## Misura e confronto

1 Osserva i legnetti e ordinali dal **più corto** al **più lungo**.




              

2 Osserva gli oggetti e ordinali dal **più pesante** al **meno pesante**.



3 Eleonora e Valentina vogliono riempire d'acqua il loro acquario utilizzando recipienti diversi.  
Cerchia il recipiente che può contenere più acqua e poi numera i recipienti in ordine, dal **più piccolo** al **più grande**.



## Conosci gli animali?

1 Scrivi i nomi degli animali. Poi completa la tabella, inserendo al posto giusto i nomi degli animali, in base all'ambiente in cui vivono.



Vivono in luoghi caldi

Vivono in luoghi freddi

.....  
.....  
.....

.....  
.....  
.....

2 Completa le frasi collegandole con una freccia al riquadro giusto.

I **mammiferi** sono animali che...

nascono dalle uova.

Gli **ovipari** sono animali che...

vengono partoriti dalla madre e allattati.

3 Cerchia in blu gli animali che sono **mammiferi**.

mucca    gallina    pecora    gatto    serpente    rondine