





Regioni e confini

1 Colora le regioni usando colori diversi per ogni regione.

	Quanti confini?	Quante regioni?





2 Osserva e rispondi.

Il numero dei confini è uguale al numero delle regioni? SÌ NO

3 Completa.

Le regioni sono sempre in più dei confini.

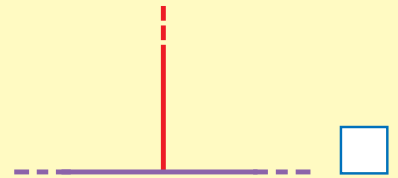
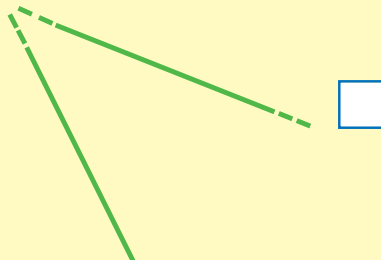
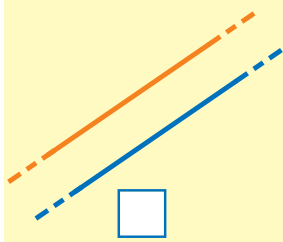
Rette, angoli, poligoni

1 Colora la casellina secondo le indicazioni.

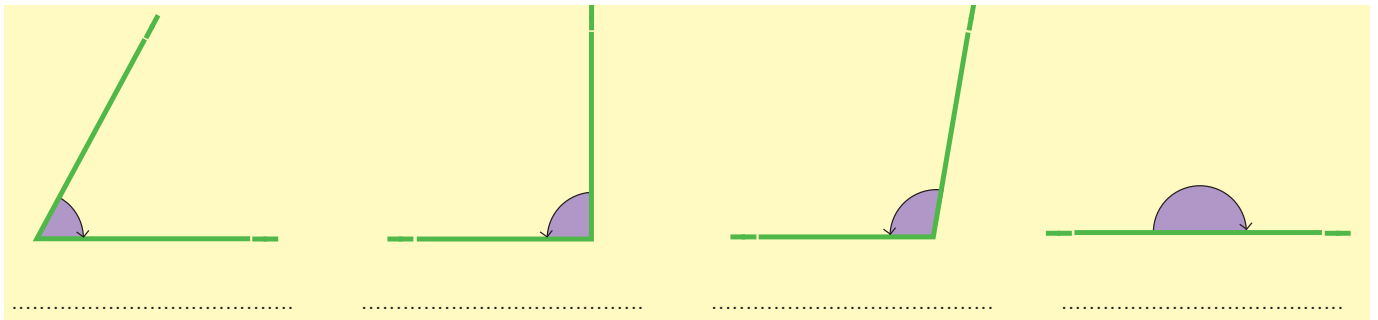
■ rette parallele

■ rette perpendicolari

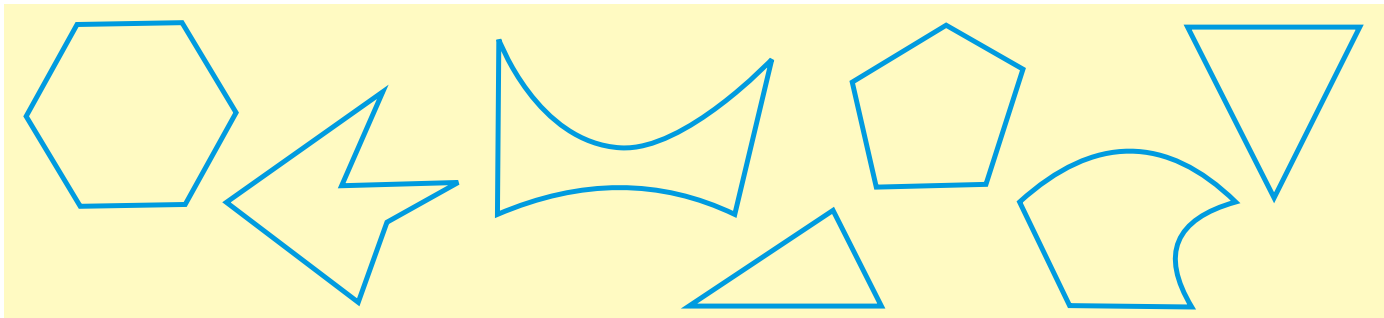
■ rette incidenti



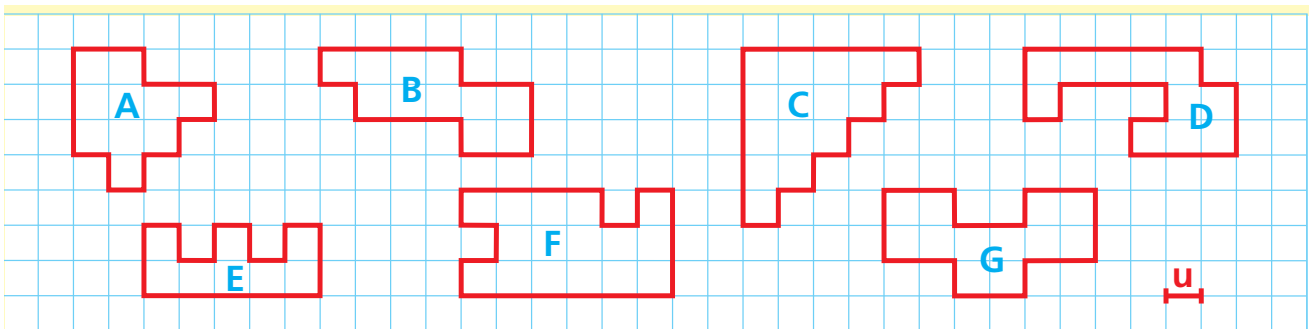
2 Classifica gli angoli.



3 Colora i poligoni.

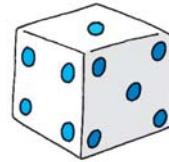




4 Calcola il perimetro dei poligoni. L'unità di misura è il quadretto.

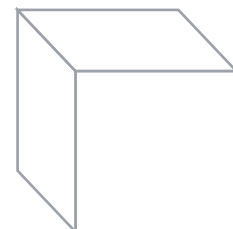
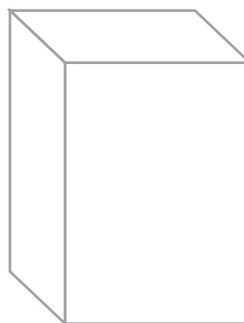



I solidi

- 1 Conosci già le figure solide.
Osserva gli oggetti e scrivi il nome della figura solida rappresentata.



- 2 Con le matite colorate e il righello ripassa di rosso la **lunghezza**, di giallo la **larghezza**, di blu l'**altezza** di questi solidi.




La catena...

In tutti gli ambienti naturali il bisogno di cibo degli esseri viventi crea un legame fra quelli che producono il cibo e quelli che lo consumano, come se fossero gli anelli di una catena: la **catena alimentare**.

Le piante sono gli unici esseri viventi in grado di produrre il cibo da soli: sono chiamati **organismi produttori**.

Gli animali non sono in grado di fabbricarsi il cibo da soli; mangiano altri animali o vegetali: sono chiamati **organismi consumatori**. Funghi, vermi, batteri, si nutrono dei resti di animali e di vegetali morti e li trasformano in sali minerali che possono essere assorbiti dalle piante: sono chiamati **organismi decompositori**.



Le piante prendono i sali minerali dal suolo per crescere. Sono **organismi produttori**.




I **decompositori** (funghi, vermi, batteri...) trasformano i resti animali e vegetali in sali minerali.

Gli animali erbivori si nutrono di piante. Sono **consumatori primari**.





Gli animali carnivori o predatori si nutrono di animali erbivori. Sono **consumatori secondari**.



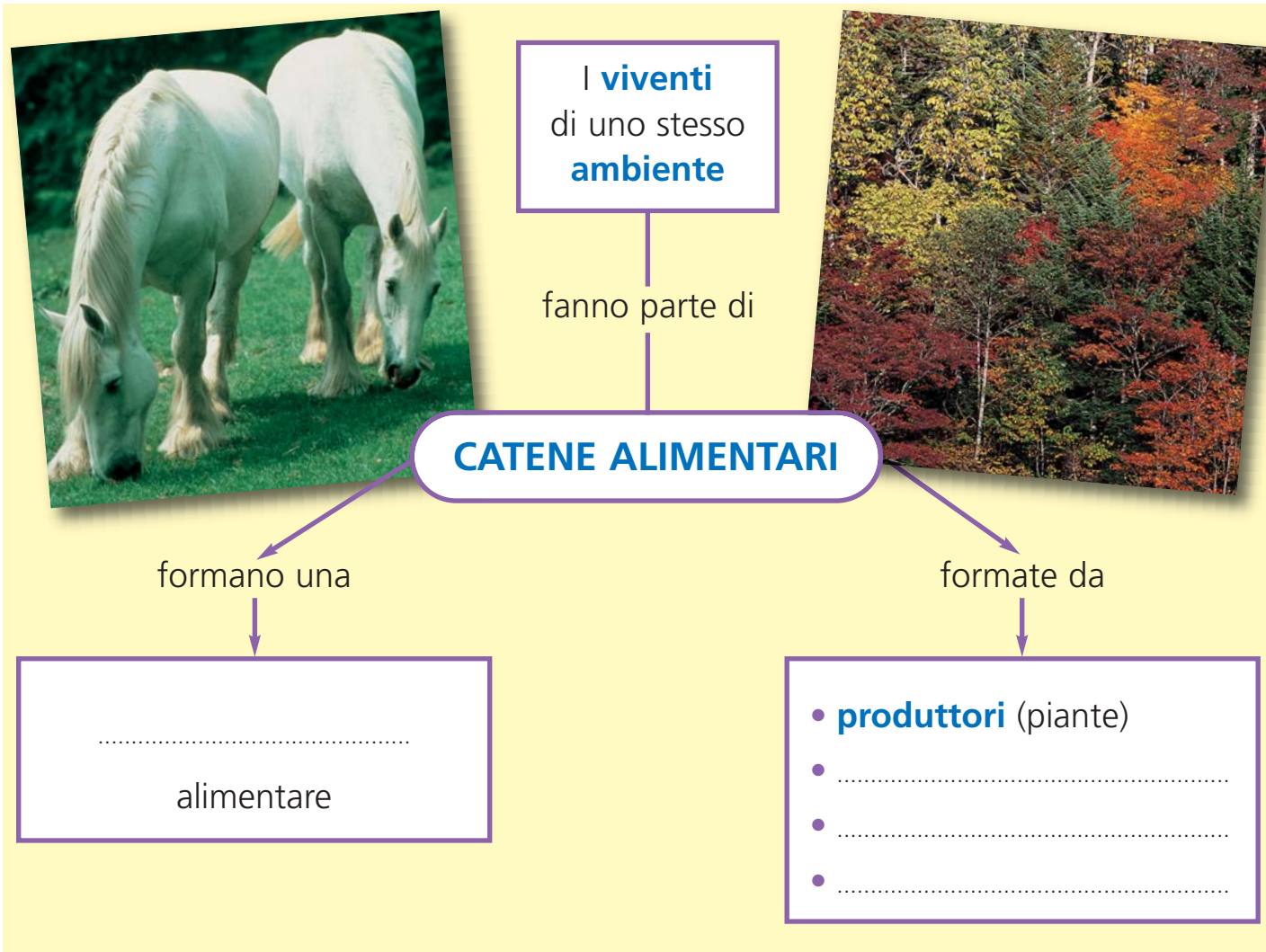
1 Completa lo schema.

è mangiato da



... alimentare

2 Completa lo schema.



3 Collega ogni gruppo di organismi della catena alimentare alla sua definizione.

Produttori	Si nutrono di animali.
Decompositori	Si nutrono di vegetali.
Consumatori primari	Si nutrono di resti animali e vegetali.
Consumatori secondari	Producono da soli il loro cibo.