

Molise

1 Osserva sul tuo sussidiario la carta fisico-politica dell'Italia e completa.

Il confina con: a nord,
..... a sud, a est,
..... a ovest.

Il capoluogo di regione è

La città capoluogo di provincia è:


2 Colora l'aerogramma secondo le indicazioni della Legenda riferite alle forme del terreno.

Legenda

collina 49%: in giallo

montagna 49%: in marrone

pianura 2%: in verde



3 Osserva sul tuo sussidiario una carta fisica del Molise e individua gli elementi indicati.

- Monte Miletto
- Lago di Occhito
- Fiume Biferno
- Fiume Volturno
- Monte Mutria

4 Completa il testo utilizzando le parole dell'elenco.

*città · frutta · modesta · migrazioni · familiare ·
ovini · albanesi · prodotti tessili · rame · ulivi*

La regione è scarsamente abitata anche a causa delle forti
avvenute in passato.

Gli abitanti sono per lo più concentrati nelle

Nel Molise vivono anche gruppi etnici slavi o, che si stabilirono
qui in epoche passate. L'economia è sebbene in aumento.

L'agricoltura è generalmente praticata in piccoli appezzamenti a conduzione
..... Si coltivano viti, cereali,,
ortaggi e

Si allevano caprini e
Le industrie, di piccole e medie dimensioni, producono manufatti,
e alimentari. L'artigianato è specializzato nella lavorazione
del, del ferro, dei coltelli e del pizzo a tombolo.

Basilicata


1 Osserva sul tuo sussidiario la carta fisico-politica dell'Italia e completa.

La confina con: a nord,
 a sud, a est,
 a ovest.

Il capoluogo di regione è

La città capoluogo di provincia è:

2 Colora l'aerogramma secondo le indicazioni della Legenda riferite alle forme del terreno.



Legenda

collina 45%: in giallo
 montagna 47%: in marrone
 pianura 8%: in verde

3 Osserva sul tuo sussidiario una carta fisica della Basilicata e individua gli elementi indicati.

- Monte Vulture
- Piana di Metaponto
- Parco Nazionale del Pollino
- Lago del Pertusillo
- Fiume Basento
- Monte Sirino
- Fiume Agri
- Monte Sirino

4 Osserva la carta e completa.

La regione ha una rete stradale e ferroviaria piuttosto carente e questo incide sullo sviluppo economico ancora modesto.



- Nella zona di Matera si coltivano
-
- Intorno a Potenza si coltivano
-
- Si allevano
- Le industrie più diffuse sono
-

Calabria

1 Osserva sul tuo sussidiario la carta fisico-politica dell'Italia e completa.

La confina con: a nord,
 a sud, a est,
 a ovest.

Il capoluogo di regione è
 Le città capoluogo di provincia sono:

2 Osserva la carta e completa.

• Quali sono le principali industrie della Calabria?

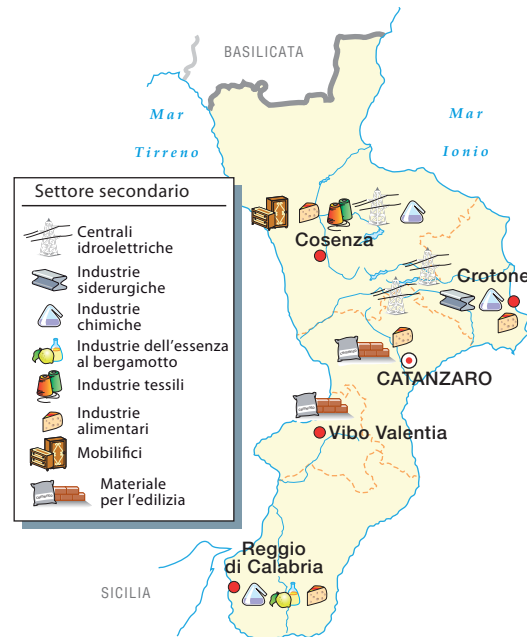
• Dove sono localizzate le industrie chimiche?

• Dove si trovano le centrali idroelettriche?

• Una produzione particolare è quella dell', utilizzata nella produzione dei profumi.

• Dove si trovano i mobilifici?

• Dove si trovano le industrie siderurgiche?



3 Osserva sul tuo sussidiario una carta tematica delle coltivazioni e degli allevamenti in Calabria e completa.

L'agricoltura della regione non è molto sviluppata.

• Nelle pianure di Sibari, Crotona e Sant'Eufemia si coltivano

• Nelle zone montuose si allevano

• È praticata la del pesce spada.